

Всероссийские проверочные работы  
2023 год

**Описание**  
контрольных измерительных материалов  
для проведения в 2023 году проверочной работы  
по ГЕОГРАФИИ

7 класс

## **Описание контрольных измерительных материалов для проведения в 2023 году проверочной работы по ГЕОГРАФИИ**

### **7 класс**

#### **1. Назначение всероссийской проверочной работы**

Всероссийские проверочные работы (ВПР) проводятся в целях осуществления мониторинга результатов перехода на ФГОС и направлены на выявление качества подготовки обучающихся.

Назначение ВПР по учебному предмету «География» – оценить качества общеобразовательной подготовки обучающихся 7 классов в соответствии с требованиями ФГОС. КИМ ВПР позволяют осуществить диагностику достижения предметных и метапредметных результатов обучения, в том числе овладение межпредметными понятиями и способность использования универсальных учебных действий (УУД) в учебной, познавательной и социальной практике. Результаты ВПР в совокупности с имеющейся в общеобразовательной организации информацией, отражающей индивидуальные образовательные траектории обучающихся, могут быть использованы для оценки личностных результатов обучения.

Результаты ВПР могут быть использованы общеобразовательными организациями для совершенствования методики преподавания географии в процессе обучения предмету, муниципальными и региональными органами исполнительной власти, осуществляющими государственное управление в сфере образования, для анализа текущего состояния муниципальных и региональных систем образования и формирования программ их развития.

Не предусмотрено использование результатов ВПР для оценки деятельности общеобразовательных организаций, учителей, муниципальных и региональных органов исполнительной власти, осуществляющих государственное управление в сфере образования.

#### **2. Документы, определяющие содержание проверочной работы**

Содержание и структура проверочной работы определяются на основе Федерального государственного образовательного стандарта основного общего образования (приказ Минобрнауки России от 17.12.2010 № 1897) с учетом Примерной основной образовательной программы основного общего образования (одобрена решением Федерального учебно-методического объединения по общему образованию (протокол от 08.04.2015 № 1/15 (в редакции протокола № 1/20 от 04.02.2020)) и содержания учебников, включенных в Федеральный перечень.

### **3. Подходы к отбору содержания, разработке структуры проверочной работы**

Всероссийские проверочные работы основаны на системно-деятельностном, компетентностном и уровневом подходах.

В рамках ВПР наряду с предметными результатами обучения учеников основной школы оцениваются также метапредметные результаты, в том числе уровень сформированности универсальных учебных познавательных, коммуникативных и регулятивных действий (УУД) и овладения межпредметными понятиями.

КИМ ВПР направлены на проверку сформированности у обучающихся:

- предметных географических умений в работе с картографическими, статистическими, иллюстративными, графическими и текстовыми источниками информации, умений обобщать, анализировать и оценивать информацию в целях интерпретации данных;

- видов деятельности по получению нового географического знания, преобразованию и применению знания в учебных и учебно-проектных ситуациях;

- географического типа мышления, научных представлений, владения научной географической терминологией, ключевыми географическими понятиями, методами и приемами.

### **4. Структура проверочной работы**

Вариант проверочной работы включает в себя 8 комплексных заданий, каждое из которых в свою очередь состоит из двух-трех частей (пунктов), объединенных единым содержанием. С учетом всех пунктов вариант работы включает в себя 8 заданий из 20 пунктов.

Задания различаются не только по содержанию, но и по характеру решаемых обучающимися задач, и проверяют умение обучающихся работать с различными источниками географической информации (картами, фотографиями, таблицами, текстами, схемами, графиками и иными условно-графическими объектами). При этом каждый пункт каждого задания направлен на проверку того или иного из вышеуказанных умений.

С учетом времени, отведенного на выполнение работы, задания требуют преимущественно краткого ответа в виде записи слов или словосочетаний, последовательности цифр, чисел, а также ответа, представленного в графической форме (в виде изображения знаков/символов), в форме записи/отметки на контурной карте, заполненной таблицы или блок-схемы.

Задания (пункты) 1.1, 1.2, 1.3, 2.1, 3.1, 6.1 выполняются с использованием географических карт, приведенных в работе.

## 5. Кодификаторы проверяемых элементов содержания и требований к уровню подготовки обучающихся

В табл. 1 приведен кодификатор проверяемых элементов содержания.

Таблица 1

Код	Проверяемые элементы содержания
<b>1</b>	<b>Освоение Земли человеком</b>
1.1	Важнейшие географические открытия и путешествия в древности и эпоху Средневековья
1.2	Важнейшие географические открытия и путешествия в XVI–XIX вв.
1.3	Важнейшие географические открытия и путешествия в XX в.
1.4	Описание и нанесение на контурную карту географических объектов одного из изученных маршрутов
<b>2</b>	<b>Главные закономерности природы Земли</b>
2.1	<b>Литосфера и рельеф Земли.</b> Литосферные плиты. Сейсмические пояса Земли. Строение земной коры. Типы земной коры. Формирование современного рельефа Земли. Полезные ископаемые
2.2	<b>Атмосфера и климаты Земли.</b> Распределение температуры, осадков, поясов атмосферного давления на Земле, их отражение на климатических картах. Графическое изображение климатических показателей. Разнообразие климата на Земле. Климатообразующие факторы и процессы, происходящие в атмосфере. Характеристика климатических поясов Земли
2.3	<b>Мировой океан – основная часть гидросферы.</b> Мировой океан и его части. Океанические течения. Система океанических течений. Характерные черты природы океанов Земли и их отличительные особенности
2.4	<b>Географическая оболочка.</b> Свойства и особенности строения географической оболочки. Общие географические закономерности. Географическая зональность. Природные зоны Земли. Высотная поясность
<b>3</b>	<b>Характеристика материков Земли</b>
3.1	<b>Географическое положение и природа материков Земли.</b> Особенности рельефа и полезные ископаемые. Климат и внутренние воды. Растительный и животный мир. Эндемики. Природные зоны. Причины природного разнообразия. Характеристика природы отдельных территорий и оценка для жизни людей
3.2	<b>Население материков Земли.</b> Регионы и страны материков (население, образ жизни, культура, хозяйство)

В табл. 2 приведен кодификатор проверяемых требований к уровню подготовки.

Таблица 2

Код	Проверяемые требования к уровню подготовки
<b>1</b>	<b>Метапредметные</b>
1.1	Умения определять понятия, создавать обобщения, устанавливать аналогии, классифицировать, самостоятельно выбирать основания и критерии для классификации
1.2	Умения устанавливать причинно-следственные связи, строить логическое рассуждение, умозаключение (индуктивное, дедуктивное и по аналогии) и делать выводы
1.3	Умения создавать, применять и преобразовывать знаки и символы, модели и схемы для решения учебных и познавательных задач

	1.4	Смысловое чтение
	1.5	Умение осознанно использовать речевые средства в соответствии с задачами коммуникации для выражения своих мыслей, планирования своей деятельности, формулирования и аргументации своего мнения; владение письменной речью
	1.6	Умение применять географическое мышление в познавательной, коммуникативной и социальной практике
	1.7	Умение оценивать правильность выполнения учебной задачи, собственные возможности ее решения
	1.8	Владение основами самоконтроля, самооценки, принятия решений и осуществления осознанного выбора в учебной и познавательной деятельности
2		<b>Предметные</b>
	2.1	Представления об основных этапах географического освоения Земли, открытиях великих путешественников и землепроходцев, исследованиях материков Земли
	2.2	Первичные компетенции использования территориального подхода как основы географического мышления; владение понятийным аппаратом географии; умение находить и распознавать ответы на вопросы, возникающие в ситуациях повседневного характера, узнавать в них проявление тех или иных географических процессов или закономерностей
	2.3	Умения ориентироваться в источниках географической информации: находить и извлекать необходимую информацию; определять и сравнивать качественные и количественные показатели, характеризующие географические объекты, процессы и явления, их положение в пространстве; выявлять недостающую и/или взаимодополняющую географическую информацию, представленную в одном или нескольких источниках; представлять в различных формах географическую информацию, необходимую для решения учебных и практико-ориентированных задач
	2.4	Умения использовать источники географической информации для решения различных задач: выявление географических зависимостей и закономерностей; объяснение географических явлений и процессов; расчет количественных показателей, характеризующих географические объекты, явления и процессы; сопоставление, сравнение и/или оценка географической информации
	2.5	Умения: различать изученные географические объекты, процессы и явления; сравнивать географические объекты, процессы и явления на основе известных характерных свойств и проводить их простейшую классификацию; описывать по карте положение и взаиморасположение географических объектов
	2.6	Способность использовать знания о географических законах и закономерностях, о взаимосвязях между изученными географическими объектами, процессами и явлениями для объяснения их свойств, условий протекания и различий
	2.7	Умения: различать географические процессы и явления, определяющие особенности природы и населения материков и океанов, отдельных регионов и стран; устанавливать черты сходства и различия особенностей природы и населения, материальной и духовной культуры регионов и отдельных стран
	2.8	Способность использовать знания о населении и взаимосвязях между изученными демографическими процессами и явлениями для решения различных учебных и практико-ориентированных задач

## 6. Распределение заданий проверочной работы по позициям кодификаторов

Распределение заданий по позициям кодификаторов приведено в табл. 3.

Таблица 3

№	Проверяемые элементы содержания	Проверяемые требования (умения)	Код КЭС/ КТ	Уровень сложности	Максимальный балл за выполнение задания	Примерное время выполнения задания обучающимся (в минутах)
1	Освоение Земли человеком. Мировой океан и его части. Географическое положение и природа материков Земли	Умения определять понятия, создавать обобщения, устанавливать аналогии. Умения устанавливать причинно-следственные связи, строить логическое рассуждение. Представления об основных этапах географического освоения Земли, открытиях великих путешественников и землепроходцев, исследованиях материков Земли. Умения ориентироваться в источниках географической информации, выявлять взаимодополняющую географическую информацию. Умения различать изученные географические объекты, описывать по карте положение и взаиморасположение географических объектов	1.1–1.4, 2.3, 3.1/ 1.1, 1.2, 2.1, 2.3, 2.5	Б Б Б	2 2 2	6
2	Литосфера и рельеф Земли. Географическое положение и природа материков Земли	Умения создавать, применять и преобразовывать знаки и символы, модели и схемы для решения учебных задач. Умение устанавливать причинно-следственные связи, строить логическое рассуждение. Умения: ориентироваться в источниках географической информации; определять и сравнивать качественные и количественные показатели, характеризующие географические объекты, их положение в пространстве; представлять в различных формах географическую информацию. Умения использовать источники географической информации для решения различных задач: выявление географических зависимостей и закономерностей; расчет количественных показателей, характеризующих географические объекты; сопоставление географической информации. Умения различать изученные географические объекты, сравнивать географические объекты на основе известных характерных свойств	2.1, 3,1/ 1.2, 1.3, 2.3–2.5	П Б Б	2 2 2	10

3	<p>Атмосфера и климаты Земли. Географическая оболочка. Природные зоны Земли</p>	<p>Умения устанавливать причинно-следственные связи, строить логическое рассуждение. Смысловое чтение. Умения ориентироваться в источниках географической информации: находить и извлекать необходимую информацию; определять и сравнивать качественные и количественные показатели, характеризующие географические объекты, процессы и явления, их положение в пространстве; выявлять взаимодополняющую географическую информацию, представленную в одном или нескольких источниках; представлять в различных формах географическую информацию. Умение использовать источники географической информации для решения различных задач. Умения: различать изученные географические объекты, процессы и явления; сравнивать географические объекты, процессы и явления на основе известных характерных свойств.</p>	<p>2.2, 2.4/ 1.2, 1.4, 2.3–2.5</p>	<p>Б Б Б</p>	<p>2 2 2</p>	<p>6</p>
4	<p>Главные закономерности природы Земли</p>	<p>Умения устанавливать причинно-следственные связи, строить логическое рассуждение, умозаключение и делать выводы. Умения создавать, применять и преобразовывать модели и схемы для решения учебных задач. Смысловое чтение. Умения ориентироваться в источниках географической информации: находить и извлекать необходимую информацию; определять и сравнивать показатели, характеризующие географические объекты, процессы и явления, их положение в пространстве. Умение использовать источники географической информации для решения различных задач: выявление географических закономерностей; объяснение географических явлений и процессов. Умение различать изученные географические объекты, процессы и явления на основе известных характерных свойств. Способность использовать знания о географических законах и закономерностях, о взаимосвязях между изученными географическими объектами, процессами и явлениями для объяснения их свойств, условий протекания и различий.</p>	<p>2.1–2.4/ 1.2, 1.3, 1.4, 2.3–2.7</p>	<p>Б П</p>	<p>1 2</p>	<p>5</p>

		Умение различать географические процессы и явления, определяющие особенности природы материков и океанов				
5	Географическое положение и природа материков Земли	<p>Умения определять понятия, создавать обобщения, устанавливать аналогии, классифицировать.</p> <p>Умения устанавливать причинно-следственные связи, строить логическое рассуждение.</p> <p>Смысловое чтение.</p> <p>Умения: различать изученные географические объекты, процессы и явления; сравнивать географические объекты, процессы и явления на основе известных характерных свойств и проводить их простейшую классификацию.</p> <p>Умение различать географические процессы и явления, определяющие особенности природы и населения материков и океанов.</p> <p>Умение представлять в различных формах географическую информацию</p>	3.1/ 1.1, 1.2, 1.4, 2.3, 2.5, 2.7	Б П	2 3	7
6	Главные закономерности природы Земли. Население материков Земли	<p>Умения устанавливать причинно-следственные связи, строить логическое рассуждение.</p> <p>Умение применять географическое мышление в познавательной, коммуникативной и социальной практике.</p> <p>Первичные компетенции использования территориального подхода как основы географического мышления; умения находить и распознавать ответы на вопросы, возникающие в ситуациях повседневного характера, узнавать в них проявление тех или иных географических процессов или закономерностей.</p> <p>Умение ориентироваться в источниках географической информации: находить и извлекать необходимую информацию, определять и сравнивать показатели, характеризующие географические объекты, их положение в пространстве.</p> <p>Умение использовать источники географической информации для решения различных задач.</p> <p>Способность использовать знания о географических законах и закономерностях, о взаимосвязях между изученными географическими объектами, процессами и явлениями для объяснения их свойств, условий протекания и различий</p>	3.2/ 1.2, 1.6, 2.2, , 2.3, 2.4, 2.6	Б Б П	1 1 1	5



7	Население материков Земли	Умение устанавливать причинно-следственные связи, строить логическое рассуждение, умозаключение и делать выводы. Умения ориентироваться в источниках географической информации: находить и извлекать необходимую информацию; определять и сравнивать качественные и количественные показатели, характеризующие географические объекты, процессы и явления. Способность использовать знания о населении и взаимосвязях между изученными демографическими процессами и явлениями для решения различных учебных и практико-ориентированных задач	3.2/ 1.2, 2.3, 2.8	Б Б	2 1	3
8	Географическое положение и природа материков Земли. Население материков Земли	Умения создавать, применять и преобразовывать знаки и символы, модели и схемы для решения учебных и познавательных задач. Умение применять географическое мышление в познавательной, коммуникативной и социальной практике. Умение различать изученные географические объекты на основе известных характерных свойств. Умения: различать географические процессы и явления, определяющие особенности природы и населения материков, отдельных регионов и стран; устанавливать черты сходства и различия особенностей природы и населения, материальной и духовной культуры регионов и отдельных стран	3.1, 3.2/ 1.3, 1.6, 2.5, 2.7	Б Б	1 2	3
Всего заданий – <b>8 / 20 (с учетом пунктов заданий)</b> , из них пунктов по уровню сложности: Б – 16; П – 4. Время выполнения проверочной работы – <b>45</b> мин. Максимальный первичный балл – <b>35</b> .						

## 7. Распределение заданий проверочной работы по уровню сложности

В табл. 4 представлена информация о распределении заданий (пунктов заданий) проверочной работы по уровню сложности.

Таблица 4

Уровень сложности заданий	Количество пунктов заданий и заданий <sup>1</sup>	Максимальный первичный балл	Процент максимального первичного балла за выполнение заданий данного уровня сложности от максимального первичного балла за всю работу, равного 35
Базовый	16	27	77
Повышенный	4	8	23
Итого	20/8	35	100

## 8. Типы заданий, сценарии выполнения заданий

Содержание задания 1 направлено на проверку сформированности представлений об основных этапах географического освоения Земли, знания основных открытий великих путешественников и землепроходцев. Задание состоит из трех частей (пунктов) и проверяет комплекс умений работы с картографической информацией, в частности умения определять и отмечать на карте географические объекты, определять географические координаты, умение применять знание одного из ключевых понятий географии – географическое положение, а также знание географической номенклатуры. Первая часть задания предполагает определение имени путешественника по отмеченному на карте маршруту его экспедиции и указание названия материка (или океана), по территории которого проходит маршрут. Во второй части требуется указать названия объектов, определяющих географическое положение данного материка (или океана). В третьей части задания обучающимся необходимо определить географические координаты одной из точек, лежащей на линии маршрута, и название объекта, на территории которого расположена эта точка.

Задание 2 проверяет умение работать с графической информацией и географической картой и выполняется с использованием профиля рельефа одного из материков и той же карты, что и для задания 1. Предметное содержание задания направлено на проверку уровня сформированности представлений об особенностях рельефа материков Земли. Задание включает в себя три части (пункта). Первая часть задания проверяет умения читать профиль рельефа на основе знания особенностей рельефа материков и сопоставлять его с картой, а также определять расстояния по географическим координатам и проводить расчеты с использованием карты. Вторая часть задания требует знания основной географической номенклатуры и умения определять абсолютные высоты форм рельефа с помощью профиля рельефа. Третья часть задания связана с работой в знаково-символической системе и посвящена проверке умения распознавать условные обозначения полезных ископаемых и фиксировать их.

<sup>1</sup> В связи с тем, что разные пункты некоторых заданий имеют различные уровни сложности, в данной таблице каждый из пунктов заданий учтён как отдельное задание.

Задание 3 проверяет умение использовать графическую интерпретацию климатических показателей для выявления основных географических закономерностей климатов Земли, способность использовать знания о географических закономерностях и устанавливать причинно-следственные связи на основе установления соответствия климата природной зональности. Задание состоит из трех частей (пунктов). Первая часть задания предполагает установление соответствия представленных в задании климатограмм климатическим поясам Земли на основе сопоставления графической информации об особенностях элементов климата, отраженных на климатограммах, с размещением климатических поясов на Земле и знаний об основных географических закономерностях. Вторая часть задания направлена на проверку умения анализировать текстовую информацию для определения природных зон по их характеристикам и выявлять закономерности их размещения в пределах климатических поясов посредством сопоставления текстовой, графической и картографической информации. Результатом выполнения задания должно быть указание природной зоны и выбор соответствующей ей климатограммы. В третьей части задания требуется заполнение таблицы основных климатических показателей, характерных для указанной природной зоны, на основе чтения выбранной климатограммы.

Задание 4 проверяет умения использовать модели и схемы для определения и описания процессов, происходящих в географической оболочке, устанавливать причинно-следственные связи, знание географической терминологии и особенностей природы разных частей Земли. Задание состоит из двух частей. Первая его часть требует определения географического процесса, отображенного в виде модели или схемы. Во второй части необходимо составить последовательность основных этапов данного процесса по их описанию и с помощью сопоставления текстовой информации и иллюстрации.

Задание 5 посвящено проверке знания географических особенностей материков Земли и основной географической номенклатуры, умения работать с графическими формами представления информации. Оно состоит из двух частей (пунктов). В первой части требуется установить соответствие между материками и их географическими особенностями на основе анализа текстовой информации, представленной в формате утверждений, содержащих элементы описания природы и населения материков. Вторая часть задания проверяет знание географической номенклатуры, принадлежность географических объектов материкам, и умение классифицировать географические объекты по типам. В этой части необходимо выявить географические объекты, расположенные на территории одного из материков, и представить ответ в форме заполненной блок-схемы.

Задание 6 направлено на проверку уровня сформированности представлений о неоднородности Земли как планеты в пространстве и во времени, о географическом положении стран мира, знания названий столиц

стран, а также умения выявлять роль планетарных явлений в жизни людей в разных частях Земли. Задание предполагает использование текстовой, картографической и визуальной информации для сопоставления времени в разных городах мира. В задании три части (пункта). В первой части от обучающихся требуется умение выделять на карте крупные страны. Во второй и третьей частях необходимо определить время в столицах этих стран с помощью изображений с использованием результата выполнения первой части задания и на основе знания о закономерностях изменения времени вследствие движения Земли. При этом третья часть задания проверяет умение использовать всю имеющуюся информацию в целях выполнения учебной задачи на основе ее сопоставления и логического рассуждения. Информация, необходимая для выполнения этой части задания, содержится: в формулировке задания б; в иллюстрации ко второму пункту задания; в ответе, полученном при выполнении второго пункта задания.

Задание 7 состоит из двух частей. Оно основано на работе со статистическими данными о населении стран мира, представленными в виде статистической таблицы, и проверяет умения извлекать информацию в соответствии с поставленной задачей и интерпретировать ее в целях сопоставления с информацией, представленной в графической форме (в виде диаграмм и графиков). Тематическое содержание таблиц отражает демографические характеристики стран мира и не является предметом проверки в рамках данного задания.

Задание 8 основано на работе с иллюстративным материалом в виде фотографий и картосхем с изображением контуров стран мира. Задание проверяет сформированность представлений о странах мира, умение устанавливать черты сходства и различия особенностей природы и населения, материальной и духовной культуры регионов и отдельных стран.

Задание состоит из двух частей. В первой части задания обучающимся необходимо определить страну по характерным фотоизображениям, во второй – узнать эту страну по ее очертаниям и названию столицы и ответить на вопрос, касающийся географических особенностей этой страны.

## **9. Система оценивания выполнения отдельных заданий и проверочной работы в целом**

Полный правильный ответ на каждое из заданий 4.1, 6.3, 7.2, 8.1 оценивается 1 баллом. Если в ответе допущена хотя бы одна ошибка (один из элементов ответа записан неправильно или не записан), выставляется 0 баллов.

Полный правильный ответ на каждое из заданий 1.2, 3.1, 4.2, 5.1 и 7.1 оценивается 2 баллами. Если в ответах на задания 1.2, 3.1 допущена одна ошибка (один из элементов ответа записан неправильно или не записан) или в ответах на задания 4.2, 5.1, 7.1 не указана одна необходимая цифра, указана лишняя цифра, или перепутаны местами две цифры, выставляется 1 балл; если допущено две или более ошибки – 0 баллов.

Ответы на задания 1.1, 1.3, 2 (все пункты), 3.2, 3.3, 5.2, 6.1, 6.2, 8.2 оцениваются по критериям.

Максимальный первичный балл за выполнение работы – 35.

**Рекомендации по переводу первичных баллов в отметки по пятибалльной шкале**

Таблица 5

Отметка по пятибалльной шкале	«2»	«3»	«4»	«5»
Первичные баллы	0–10	11–22	23–30	31–35

**10. Время выполнения варианта проверочной работы**

На выполнение проверочной работы по учебному предмету «География» дается 45 минут.

**11. Описание дополнительных материалов и оборудования, необходимых для проведения проверочной работы**

При вычислениях разрешается использовать непрограммируемый калькулятор. Для изображения условных знаков необходимо использовать карандаш.

**12. Рекомендации по подготовке к работе**

Специальная подготовка к проверочной работе не требуется.

**Проверочная работа  
по ГЕОГРАФИИ**

**7 КЛАСС**

**Образец**

**Инструкция по выполнению работы**

На выполнение работы по географии даётся 45 минут. Работа включает в себя 8 заданий.


Ответы на задания запишите в поля ответов в тексте работы. В случае записи неверного ответа зачеркните его и запишите рядом новый.

При вычислениях разрешается использовать непрограммируемый калькулятор. Для выполнения задания 2 Вам потребуется карандаш.

При выполнении работы не разрешается пользоваться учебником, рабочими тетрадями, атласом и другим справочным материалом.

При необходимости можно пользоваться черновиком. Записи в черновике проверяться и оцениваться не будут.

Советуем выполнять задания в том порядке, в котором они даны. В целях экономии времени пропускайте задание, которое не удаётся выполнить сразу, и переходите к следующему. Если после выполнения всей работы у Вас останется время, то Вы сможете вернуться к пропущенным заданиям.

Значком  отмечены задания, ответы на которые фиксируются на картах, приведённых на страницах 2, 11.


***Желаем успеха!***

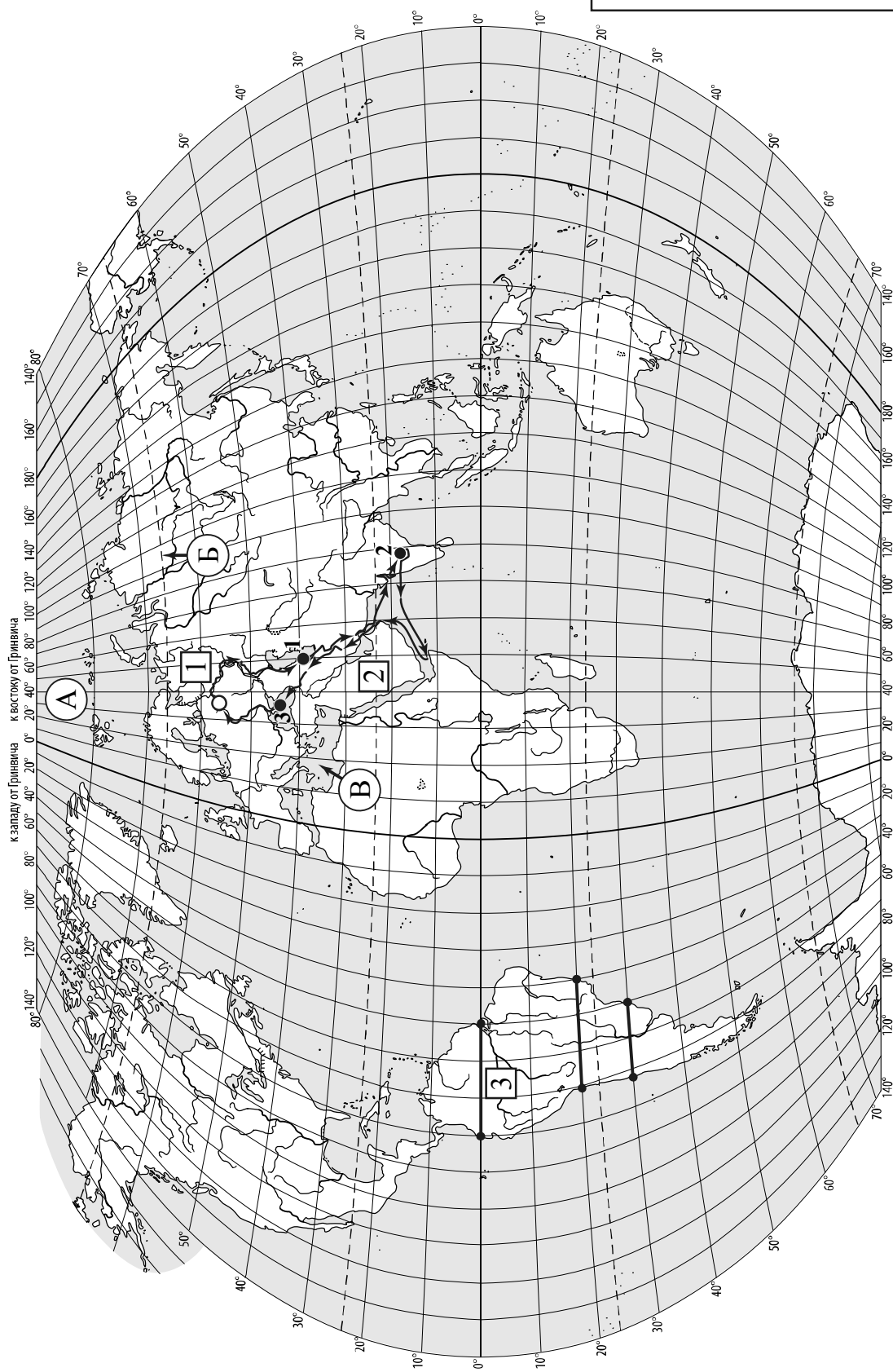
*Заполняется учителем, экспертом или техническим специалистом*

**Обратите внимание:** в случае, если какие-либо задания не могли быть выполнены целым классом по причинам, связанным с отсутствием соответствующей темы в реализуемой школой образовательной программе, в форме сбора результатов ВПР всем обучающимся класса за данное задание вместо балла выставляется значение «Тема не пройдена». В соответствующие ячейки таблицы заполняется н/п.

*Таблица для внесения баллов участника*

Номер задания	1.1	1.2	1.3	2.1	2.2	2.3	3.1	3.2	3.3	4.1	4.2	5.1	5.2	6.1	6.2	6.3
Баллы																
				Номер задания	7.1	7.2	8.1	8.2	Сумма баллов	Отметка за работу						
				Баллы												

 Карта для выполнения заданий 1 – 3



*Задания 1–3 выполняются с использованием карты мира, приведённой на странице 2.*


1

На карте мира, приведённой на странице 2, изображён маршрут экспедиции одного из путешественников, портреты которых представлены ниже. Рассмотрите карту и портреты путешественников и выполните задания.

1.1. Маршрут экспедиции кого из путешественников изображён на карте?



*Давид Ливингстон*



*Афанасий Никитин*



*Н.М. Пржевальский*

Ответ. \_\_\_\_\_



Подпишите на карте название материка, по которому проходил маршрут экспедиции.



1.2. На карте буквами обозначены объекты, определяющие географическое положение материка, по которому проходил маршрут экспедиции. Выберите из приведённого списка и запишите в таблицу названия этих объектов.

*Тихий океан, Средиземное море, Северный полярный круг,  
Северный тропик, Чёрное море, Северный Ледовитый океан.*

А	Б	В



1.3. По линии маршрута экспедиции отмечены точки, расположенные на территории крупных географических объектов. Определите и запишите в ответе географические координаты точки 2.

Ответ. \_\_\_\_\_

На территории какого географического объекта расположена точка 2? Запишите в ответе его название.



Ответ. \_\_\_\_\_



2

На уроке географии Сергей построил профиль рельефа Южной Америки, представленный на рисунке. Используя рисунок 1 и карту мира, приведённую на странице 2, выполните задания.

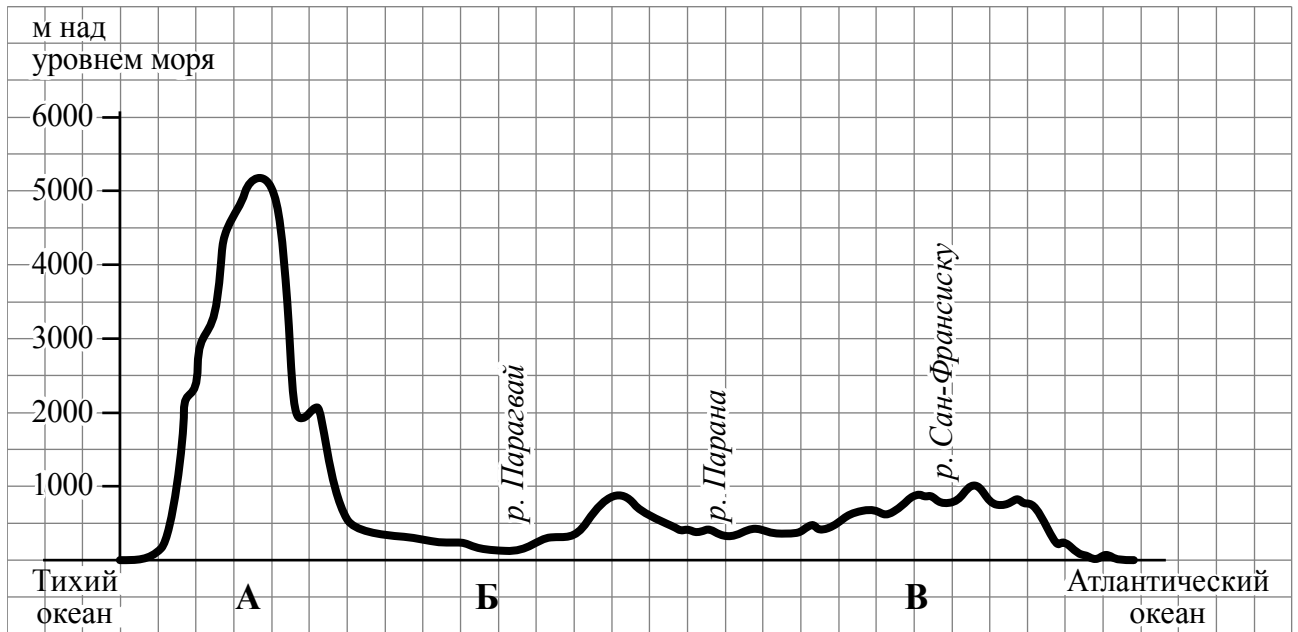


Рисунок 1

2.1. По какому из отрезков, проведённых на карте вдоль трёх параллелей, пересекающих материк Южная Америка, построен профиль рельефа, представленный на рисунке 1? Укажите в ответе значение параллели.

Ответ. \_\_\_\_\_

Определите по карте протяжённость материка Южная Америка **в градусах** по указанной Вами параллели.

Ответ. \_\_\_\_\_ °.

Рассчитайте протяжённость материка Южная Америка по указанной Вами параллели **в километрах** с помощью приведённой ниже таблицы. (Для расчёта воспользуйтесь калькулятором.)

Широта	0°	10°	20°	30°	40°	50°	60°	70°	80°	90°
Длина дуги параллели в 1°, км	111,3	109,6	104,6	96,5	85,4	71,7	55,8	38,2	19,4	0

Ответ. \_\_\_\_\_ км.



2.2. Какой крупной форме рельефа соответствует участок профиля, обозначенный на рисунке 1 буквой В?

- 1) Амазонская низменность
- 2) горы Анды
- 3) Бразильское плоскогорье
- 4) Ла-Платская низменность

Ответ.

Определите наибольшую абсолютную высоту территории, через которую проходит профиль на этом участке.

Ответ. \_\_\_\_\_ м.

2.3. На рисунке 2 представлены значки, которыми обозначаются месторождения полезных ископаемых на географических картах.



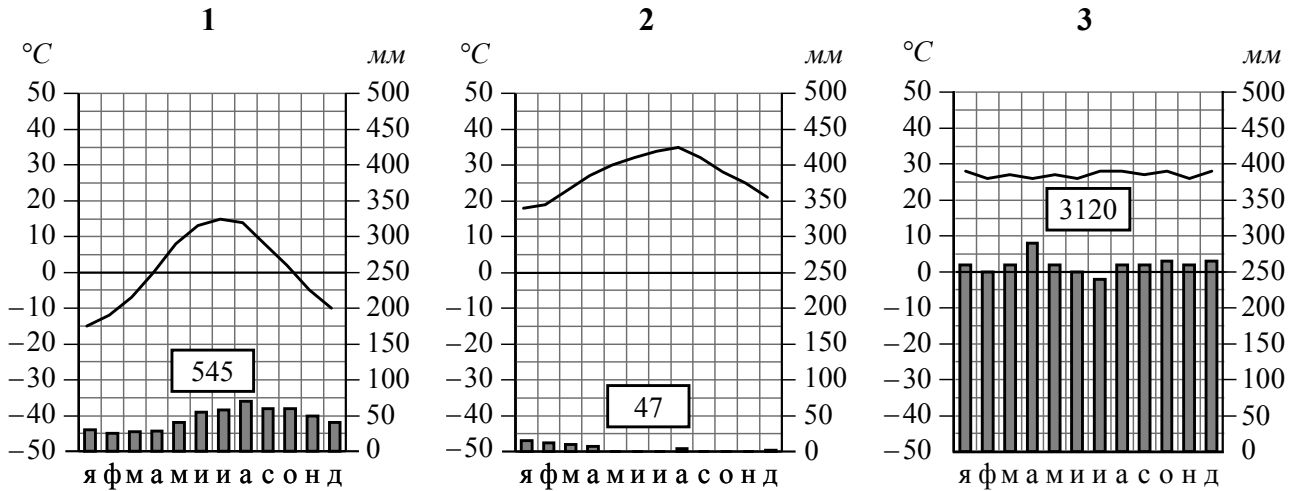
Рисунок 2

Внесите в таблицу значки, обозначающие месторождения полезных ископаемых, которые добывают на территории, обозначенной на профиле буквой В.

Железные руды	Алмазы	Марганцевые руды	Алюминиевые руды

3. Рассмотрите карту мира и рисунки с изображением климатограмм, построенных по данным метеонаблюдений в разных частях Земли, и выполните задания.

3.1. На карте мира территории, для которых построены изображённые на рисунках климатограммы, показаны квадратами с соответствующими номерами климатограмм. Определите, какому климатическому поясу соответствует каждая климатограмма. Подпишите названия климатических поясов под соответствующими климатограммами.



3.2. Какой природной зоне мира соответствуют приведённые ниже характеристики? Укажите в ответе название этой природной зоны.

- 1) Занимает большие территории в Северном полушарии (в Северной Америке и Евразии).
- 2) Чётко выражены сезоны года.
- 3) В растительном покрове преобладают хвойные деревья.
- 4) Формируются подзолистые почвы.
- 5) Типичные представители животного мира: бурый медведь, лисица, волк, белка.

Ответ. \_\_\_\_\_

Выберите климатограмму, соответствующую климатическим особенностям указанной Вами природной зоны. Запишите в ответе её номер.

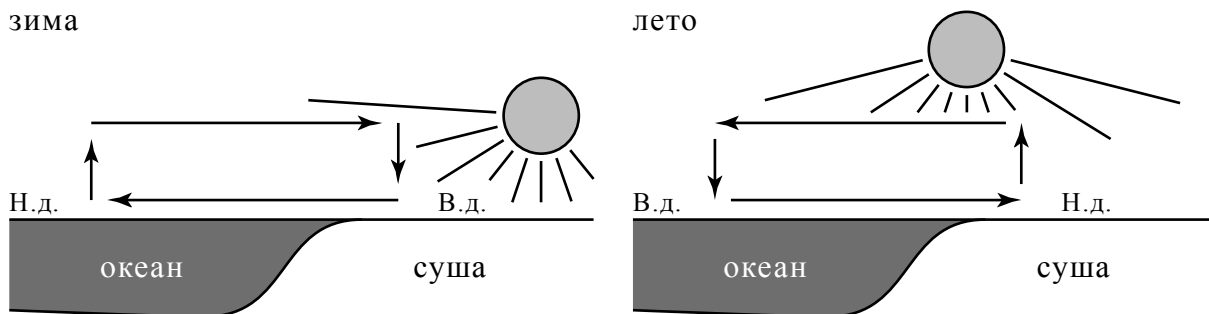
Ответ.

3.3. По выбранной климатограмме заполните таблицу климатических показателей для указанной Вами природной зоны.

Средняя температура воздуха, °C		Годовая амплитуда температур, °C	Годовое количество осадков, мм	Месяц, на который приходится наибольшее количество осадков
в январе	в июле			

4

Рассмотрите схему природного процесса и выполните задания.



Н.д. – низкое давление  
В.д. – высокое давление

4.1. Какой природный процесс отображён на схеме?

Ответ. \_\_\_\_\_

4.2. Установите последовательность этапов указанного Вами природного процесса **в летний период**. Запишите в ответе **порядковые номера** этапов.

ЭТАПЫ:

- 1) Воздух перемещается из области высокого давления в область низкого давления – с океана в сторону суши.
- 2) Летом суша прогревается сильнее, чем поверхность океана, и лёгкий тёплый воздух поднимается вверх.
- 3) Подъём тёплого воздуха обеспечивает формирование над сушей области пониженного давления.
- 4) Тяжёлый холодный воздух формирует над океаном область повышенного давления.
- 5) Нагревание воздуха над океаном происходит медленнее, чем над сушей, и над поверхностью океана скапливается тяжёлый холодный воздух.

Ответ.

--	--	--	--	--	--

5

5.1. Установите соответствие между материками и их географическими особенностями.

**Материки**

- А – Северная Америка
- Б – Африка

**Географические особенности**

- 1) Наибольшую площадь материка занимает природная зона пустынь.
- 2) На западе материка расположена одна из самых крупных горных систем мира.
- 3) К северу от материка расположен один из крупнейших архипелагов мира.
- 4) Недра северной части материка богаты нефтью.
- 5) Для центральной части материка характерны ураганы и атмосферные смерчи – торнадо.
- 6) Восточная часть материка – это современная рифтовая зона с глыбовыми горами и глубочайшими впадинами, многие из которых заняты озёрами.

Запишите в таблицу выбранные цифры под буквами, которыми обозначены материки.

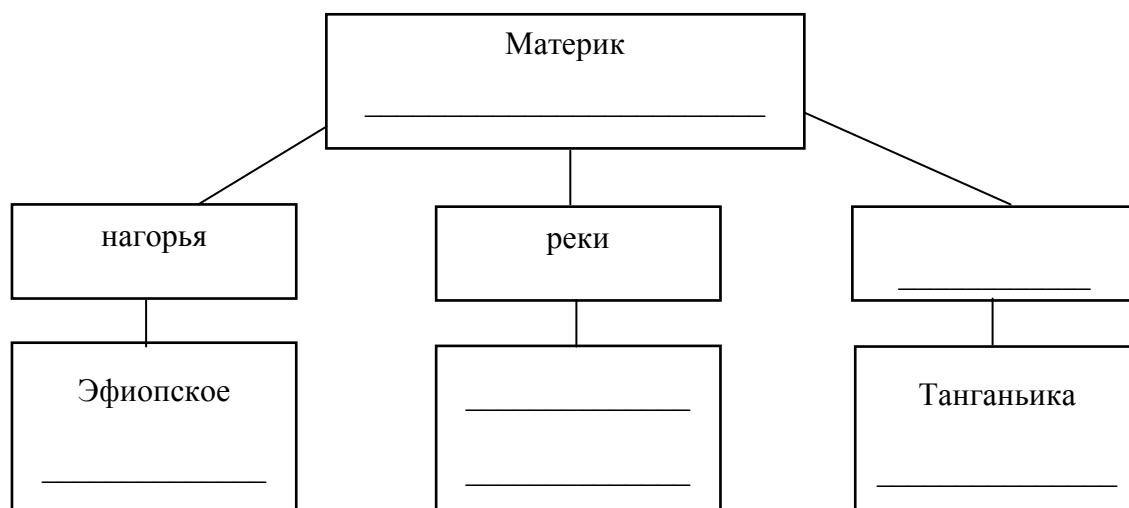
□

Материк	<b>А</b>	<b>Б</b>
Географические особенности		

5.2. Заполните блок-схему: для этого по указанным на схеме названиям географических объектов определите и запишите название одного из двух материков, указанных в задании 5.1, а затем выберите из списка названия других географических объектов, расположенных на территории этого материка, запишите их в соответствующие ячейки на схеме и заполните оставшиеся пустые ячейки.

*Конго, Ориноко, Ниагара, Виктория, Амур, Анды, Кавказ, Тибести, Байкал, Замбези, Аппалачи, Тибет.*

□



**Задание 6 выполняется с использованием политической карты мира, приведённой на странице 11.**

6



Томас и Акио познакомились на чемпионате мира по футболу. Акио живёт в столице Японии, а Томас – в столице Германии. Подростки общаются через Интернет, и при общении им приходится учитывать разницу во времени между их городами.



6.1. На политической карте мира, приведённой на странице 11, выделите штриховкой страны, в которых живут подростки.



6.2. Вследствие вращения Земли время различается в разных её частях, и в Японии день наступает раньше, чем в Германии. Часы на рисунках отображают время в городах, где живут подростки. Подпишите названия городов под соответствующими часами.



Время по Гринвичу



24:00 / 00:00 (полночь)

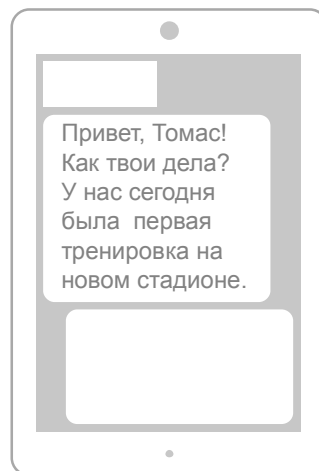
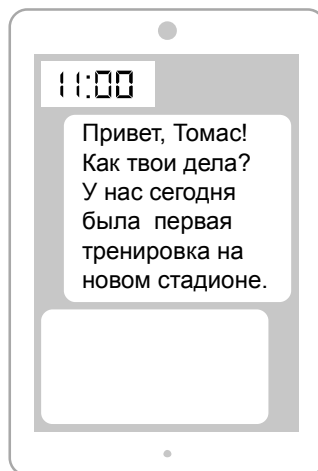
24 мая  
01:00

24 мая  
09:00

6.3. Акио отправил Томасу электронное сообщение в 11:00 по местному времени.

*Акио*

*Томас*



Какое время будет отображаться в соответствующем окне на экране смартфона Томаса, когда он получит сообщение от Акио?



Ответ. \_\_\_\_\_

7

Используя представленную ниже таблицу, выполните задания.

**Численность и возрастной состав населения, 2017 г.**


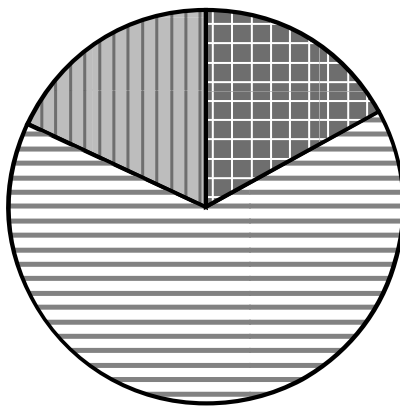
№	Страна	Численность населения, млн человек	Доля населения, %		
			в возрасте до 15 лет	в возрасте от 15 до 65 лет	в возрасте 65 лет и старше
1	Бразилия	211	22	69	9
2	Великобритания	66	17	65	18
3	Нигер	22	49	48	3
4	Япония	126	13	59	28

7.1. Расположите страны в порядке **увеличения** численности населения, начиная со страны с самой маленькой численностью. Запишите в ответе последовательность **порядковых номеров** этих стран.

Ответ.

--	--	--	--

7.2. Возрастной состав населения какой страны отражает представленная на рисунке диаграмма? Запишите в ответе **название** страны.



доля населения  
в возрасте до 15 лет



доля населения  
в возрасте от 15 до 65 лет

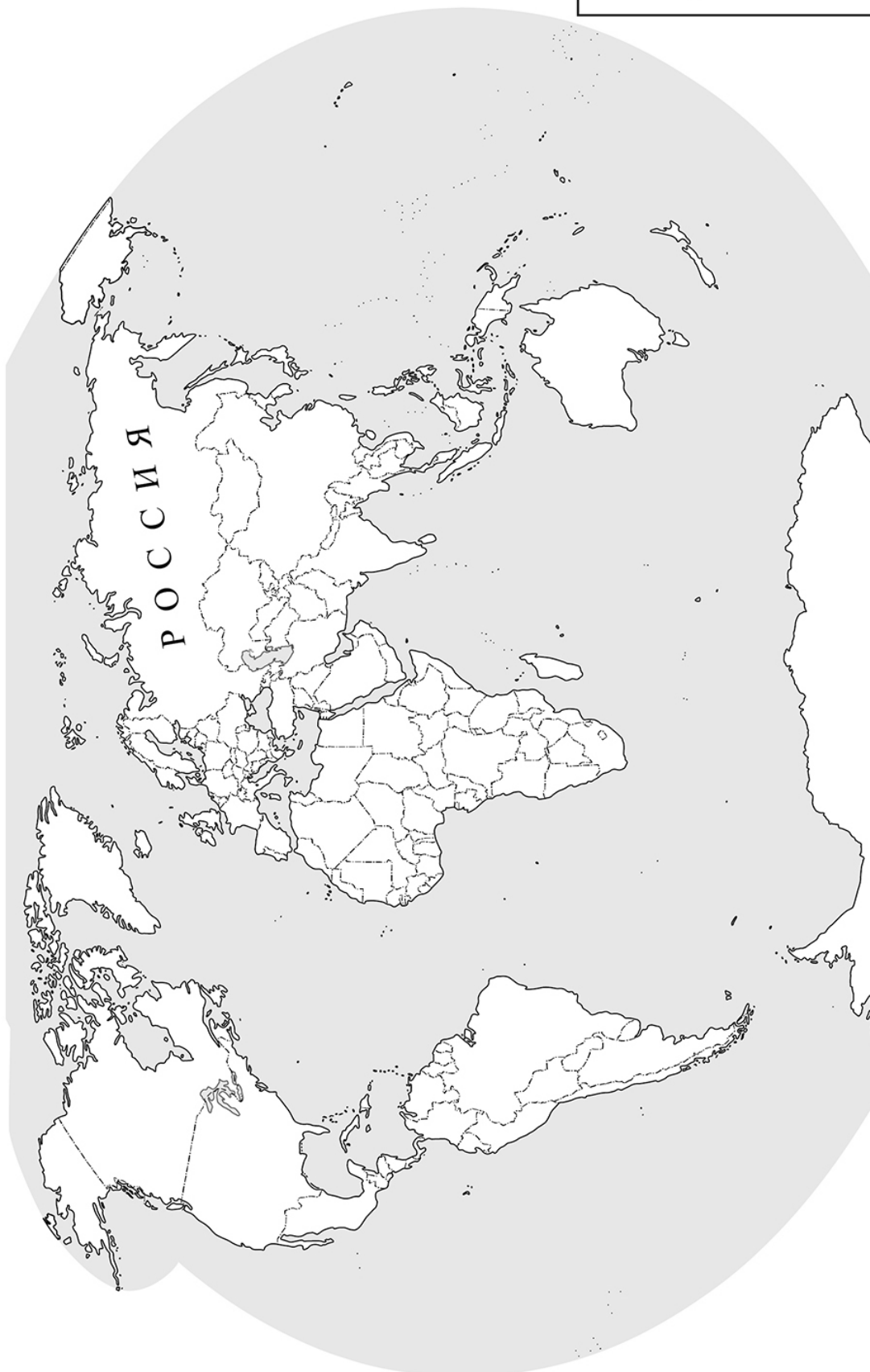


доля населения  
в возрасте 65 лет и старше

Ответ. \_\_\_\_\_



Карта для выполнения задания 6



*Государственные границы стран мира даны по состоянию на 01.01.2022 г.*



8 Представьте, что Вы познакомились со своим сверстником, который живёт за границей, и он прислал Вам фотографии, сделанные в его стране.

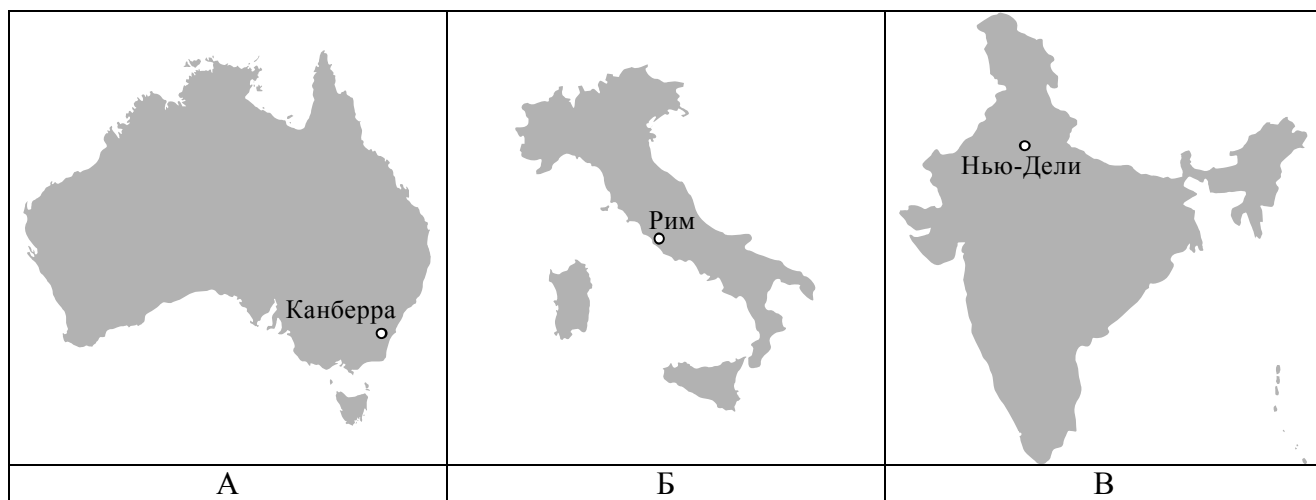
8.1. Рассмотрите фотографии и ответьте на вопрос.



В какой стране живёт Ваш сверстник?

Ответ. \_\_\_\_\_

8.2. Рассмотрите представленные ниже рисунки. Выберите рисунок с контуром страны, в которой живёт Ваш сверстник. Запишите в ответе букву, которой обозначен этот рисунок.



Ответ.

В какой части света находится эта страна?

Ответ. \_\_\_\_\_

**Система оценивания проверочной работы**

Полный правильный ответ на каждое из заданий 4.1, 6.3, 7.2, 8.1 оценивается 1 баллом. Если в ответе допущена хотя бы одна ошибка (один из элементов ответа записан неправильно или не записан), выставляется 0 баллов.

Полный правильный ответ на каждое из заданий 1.2, 3.1, 4.2, 5.1 и 7.1 оценивается 2 баллами. Если в ответах на задания 1.2, 3.1 допущена одна ошибка (один из элементов ответа записан неправильно или не записан) или в ответах на задания 4.2, 5.1, 7.1 не указана одна необходимая цифра, указана лишняя цифра, или перепутаны местами две цифры, выставляется 1 балл; если допущено две или более ошибки – 0 баллов.

<b>Номер задания</b>	<b>Правильный ответ</b>
<b>1.2</b>	А – Северный Ледовитый океан Б – Северный полярный круг В – Средиземное море
<b>3.1</b>	1 – умеренный 2 – тропический 3 – экваториальный
<b>4.1</b>	образование муссона
<b>4.2</b>	23541 <i>Если за выполнение задания 4.1 выставлено 0 баллов, результат выполнения данного задания не засчитывается</i>
<b>5.1</b>	А – 235 (в любой последовательности) Б – 146 (в любой последовательности)
<b>6.3</b>	03:00
<b>7.1</b>	3241
<b>7.2</b>	Великобритания
<b>8.1</b>	в Италии


1

На карте мира, приведённой на странице 2, изображён маршрут экспедиции одного из путешественников, портреты которых представлены ниже. Рассмотрите карту и портреты путешественников и выполните задания.

1.1. Маршрут экспедиции кого из путешественников изображён на карте?



Давид Ливингстон



Афанасий Никитин



Н.М. Пржевальский

Подпишите на карте название материка, по которому проходил маршрут экспедиции.

Содержание верного ответа и указания по оцениванию	Баллы
Правильный ответ должен содержать следующие <u>элементы</u> : 1) указание <u>путешественника</u> : Афанасий Никитин; 2) подпись <u>названия материка на карте</u> : Евразия	
Правильно указан путешественник, подписан материк	2
Правильно указан путешественник; название материка на карте не подписано / подписано неправильно	1
Путешественник не указан / указан неправильно независимо от подписи названия материка на карте. ИЛИ Ответ неправильный	0
<i>Максимальный балл</i>	2

1.3. По линии маршрута экспедиции отмечены точки, расположенные на территории крупных географических объектов. Определите и запишите в ответе географические координаты точки 2.

На территории какого географического объекта расположена точка 2? Запишите в ответе его название.

Содержание верного ответа и указания по оцениванию	Баллы
Правильный ответ должен содержать <u>два элемента</u> : 1) <u>координаты точки</u> : 18° с.ш. 79° в.д. ( <i>допускается погрешность ±1°</i> ); 2) <u>название географического объекта</u> : полуостров Индостан	
Правильно указаны координаты точки и название географического объекта	2
Правильно указаны координаты точки, название географического объекта не указано / указано неправильно	1
Координаты точки не указаны / указаны неправильно независимо от указания названия географического объекта. ИЛИ Ответ неправильный	0
<i>Максимальный балл</i>	2

2

На уроке географии Сергей построил профиль рельефа Южной Америки, представленный на рисунке. Используя рисунок 1 и карту мира, приведённую на странице 2, выполните задания.

2.1. По какому из отрезков, проведённых на карте вдоль трёх параллелей, пересекающих материк Южная Америка, построен профиль рельефа, представленный на рисунке 1? Укажите в ответе значение параллели.

Определите по карте протяжённость материка Южная Америка **в градусах** по указанной Вами параллели.

Рассчитайте протяжённость материка Южная Америка по указанной Вами параллели **в километрах** с помощью приведённой ниже таблицы. (Для расчёта воспользуйтесь калькулятором.)

Широта	0°	10°	20°	30°	40°	50°	60°	70°	80°	90°
Длина дуги параллели в 1°, км	111,3	109,6	104,6	96,5	85,4	71,7	55,8	38,2	19,4	0

Содержание верного ответа и указания по оцениванию	Баллы
Правильный ответ должен содержать <u>три элемента</u> : 1) <u>значение параллели</u> : 20° ю.ш.; 2) <u>протяжённость материка в градусах</u> : 30° ( <i>допускается погрешность ±2°</i> ); 3) <u>протяжённость материка в километрах</u> : 3138 км ( <i>допускается соответствующая погрешность в километрах</i> )	
Правильно указаны значение параллели, протяжённость материка в градусах и протяжённость материка в километрах	2
Правильно указаны значение параллели и протяжённость материка в градусах, протяжённость материка в километрах не указана / указана неправильно	1
Правильно указано только значение параллели; протяжённость материка в градусах и протяжённость материка в километрах не указаны / указаны неправильно. Значение параллели не указано / указано неправильно независимо от указания двух других элементов ответа. ИЛИ Ответ неправильный	0
<i>Максимальный балл</i>	2

2.2. Какой крупной форме рельефа соответствует участок профиля, обозначенный на рисунке 1 буквой В?

Определите наибольшую абсолютную высоту территории, через которую проходит профиль на этом участке.

Содержание верного ответа и указания по оцениванию	Баллы
Правильный ответ должен содержать <u>два элемента</u> : 1) <u>указание формы рельефа</u> : 3; 2) <u>абсолютная высота территории</u> : 1000 м	
Правильно указана форма рельефа и определена абсолютная высота территории	2
Правильно указана форма рельефа; абсолютная высота территории не определена / определена неправильно	1
Форма рельефа не указана / указана неправильно независимо от определения абсолютной высоты территории. ИЛИ Ответ неправильный	0
<i>Максимальный балл</i>	2

2.3. На рисунке 2 представлены значки, которыми обозначаются месторождения полезных ископаемых на географических картах.

Внесите в таблицу значки, обозначающие месторождения полезных ископаемых, которые добывают на территории, обозначенной на профиле буквой В.

Содержание верного ответа и указания по оцениванию	Баллы								
Правильный ответ должен содержать <u>таблицу</u> с внесёнными в неё значками полезных ископаемых:									
<table border="1" style="width: 100%; text-align: center;"> <tr> <td>Железные руды</td> <td>Алмазы</td> <td>Марганцевые руды</td> <td>Алюминиевые руды</td> </tr> <tr> <td></td> <td></td> <td></td> <td></td> </tr> </table>	Железные руды	Алмазы	Марганцевые руды	Алюминиевые руды					
Железные руды	Алмазы	Марганцевые руды	Алюминиевые руды						
									
Правильно заполнены четыре ячейки таблицы	2								
Правильно заполнены три ячейки таблицы	1								
Правильно заполнены одна-две ячейки таблицы. ИЛИ Все ячейки таблицы заполнены неправильно / не заполнены	0								
<i>Максимальный балл</i>	2								

3

3.2. Какой природной зоне мира соответствуют приведённые ниже характеристики? Укажите в ответе название этой природной зоны.

- 1) Занимает большие территории в Северном полушарии (в Северной Америке и Евразии).
- 2) Чётко выражены сезоны года.
- 3) В растительном покрове преобладают хвойные породы деревьев.
- 4) Формируются подзолистые почвы.
- 5) Типичные представители животного мира: бурый медведь, лисица, волк, белка.

Выберите климатограмму, соответствующую климатическим особенностям указанной Вами природной зоны. Запишите в ответе её номер.

Содержание верного ответа и указания по оцениванию	Баллы
Правильный ответ должен содержать <u>два элемента</u> : 1) <u>название природной зоны</u> : тайга; 2) <u>номер климатограммы</u> : 1	
Правильно указаны название природной зоны и номер климатограммы	2
Правильно указано название природной зоны; номер климатограммы не указан / указан неправильно	1
Название природной зоны не указано / указано неправильно независимо от указания номера климатограммы. ИЛИ Ответ неправильный	0
<i>Максимальный балл</i>	2

3.3. По выбранной климатограмме заполните таблицу климатических показателей для указанной Вами природной зоны.

Содержание верного ответа и указания по оцениванию					Баллы
Правильный ответ должен содержать <u>заполненную таблицу</u> :					
Средняя температура воздуха, °С		Годовая амплитуда температур, °С	Годовое количество осадков, мм	Месяц, на который приходится наибольшее количество осадков	
в январе	в июле				
-15	+15	30	545	август	
<i>При определении температуры воздуха допускается погрешность <math>\pm 1</math> °С. Если в ответе на задание 3.2 номер климатограммы не указан / указан неправильно, то результат выполнения данного задания не засчитывается</i>					
Правильно заполнены все ячейки таблицы					2
В таблице допущена одна ошибка					1
В таблице допущено две или более ошибки. ИЛИ Ответ неправильный					0
<i>Максимальный балл</i>					2

5

5.2. Заполните блок-схему: для этого по указанным на схеме названиям географических объектов определите и запишите название одного из двух материков, указанных в задании 5.1, а затем выберите из списка названия других географических объектов, расположенных на территории этого материка, запишите их в соответствующие ячейки на схеме и заполните оставшиеся пустые ячейки.

*Конго, Ориноко, Ниагара, Виктория, Амур, Анды, Кавказ, Тибести, Байкал, Замбези, Аппалачи, Тибет.*

Содержание верного ответа и указания по оцениванию	Баллы
<p>Правильный ответ должен содержать <u>заполненную схему</u> с вписанными в неё названием материка, типами и названиями географических объектов.</p> <div style="text-align: center;"> <pre> graph TD     A[Материк Африка] --- B[нагорья]     A --- C[реки]     A --- D[озёра]     B --- E[Эфиопское]     B --- F[Тибести]     C --- G[Конго]     C --- H[Замбези]     D --- I[Танганьика]     D --- J[Виктория]           </pre> </div>	
Схема заполнена правильно	3
В заполнении схемы допущена одна ошибка	2
В заполнении схемы допущено две ошибки	1
В заполнении схемы допущено три или более ошибки. ИЛИ Ответ неправильный	0
<i>Максимальный балл</i>	3


6

Томас и Акио познакомились на чемпионате мира по футболу. Акио живёт в столице Японии, а Томас – в столице Германии. Подростки общаются через Интернет, и при общении им приходится учитывать разницу во времени между их городами.

6.1. На политической карте мира, приведённой на странице 11, выделите штриховкой страны, в которых живут подростки.


Содержание верного ответа и указания по оцениванию	Баллы
Правильный ответ должен содержать <u>выделение на карте двух стран</u> : Японии и Германии	
Правильно выделены две страны	1
Правильно выделена только одна любая страна; вторая страна не выделена / выделена неправильно. ИЛИ Страны не выделены / выделены неправильно	0
<i>Максимальный балл</i>	<i>1</i>

6.2. Вследствие вращения Земли в разных её частях время различается, и в Японии день наступает раньше, чем в Германии. Часы на рисунках отображают время в городах, где живут подростки. Подпишите названия городов под соответствующими часами.




Время по Гринвичу

24:00 / 00:00 (полночь)



Берлин

24 мая  
01:00



Токио

24 мая  
09:00

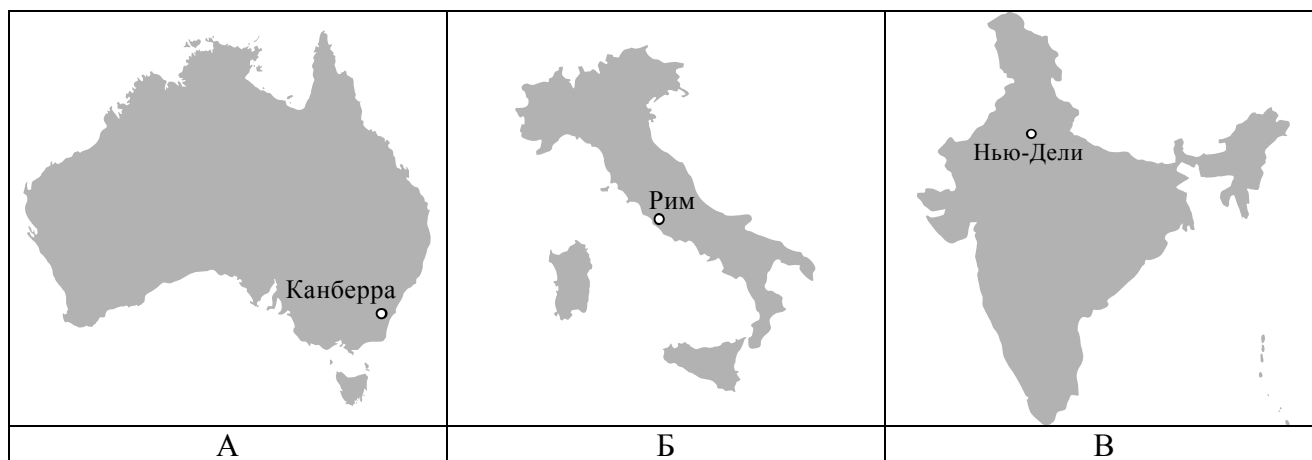
Содержание верного ответа и указания по оцениванию	Баллы
Правильный ответ должен содержать <u>подписи названий двух городов</u> : Берлина (столицы Германии) и Токио (столицы Японии)	
Правильно подписаны названия двух городов	1
Правильно подписано название только одного любого города; название второго города не подписано / подписано неправильно. ИЛИ Названия городов не подписаны / подписаны неправильно	0
<i>Максимальный балл</i>	<i>1</i>



8

8.2. Рассмотрите представленные ниже рисунки. Выберите рисунок с контуром страны, в которой живёт Ваш сверстник. Запишите в ответе букву, которой обозначен этот рисунок.

В какой части света находится эта страна?



Содержание верного ответа и указания по оцениванию	Баллы
Правильный ответ должен содержать <u>два элемента</u> : 1) <u>указание рисунка</u> с контуром страны: Б; 2) <u>ответ на вопрос</u> : в Европе <i>Если за выполнение задания 8.1 выставлено 0 баллов, результат выполнения данного задания не засчитывается</i>	
Правильно указан рисунок и дан ответ на вопрос	2
Правильно указан только рисунок, ответ на вопрос не дан / дан неправильно	1
Рисунок не указан / указан неправильно независимо от ответа на вопрос. ИЛИ Ответ неправильный	0
<i>Максимальный балл</i>	2

### Система оценивания выполнения всей работы

Максимальный первичный балл за выполнение работы – 35.

*Рекомендации по переводу первичных баллов в отметки по пятибалльной шкале*

Отметка по пятибалльной шкале	«2»	«3»	«4»	«5»
Первичные баллы	0–10	11–22	23–30	31–35